








うちゅう ちきゅう
「宇宙と地球」

もんだい
問題②

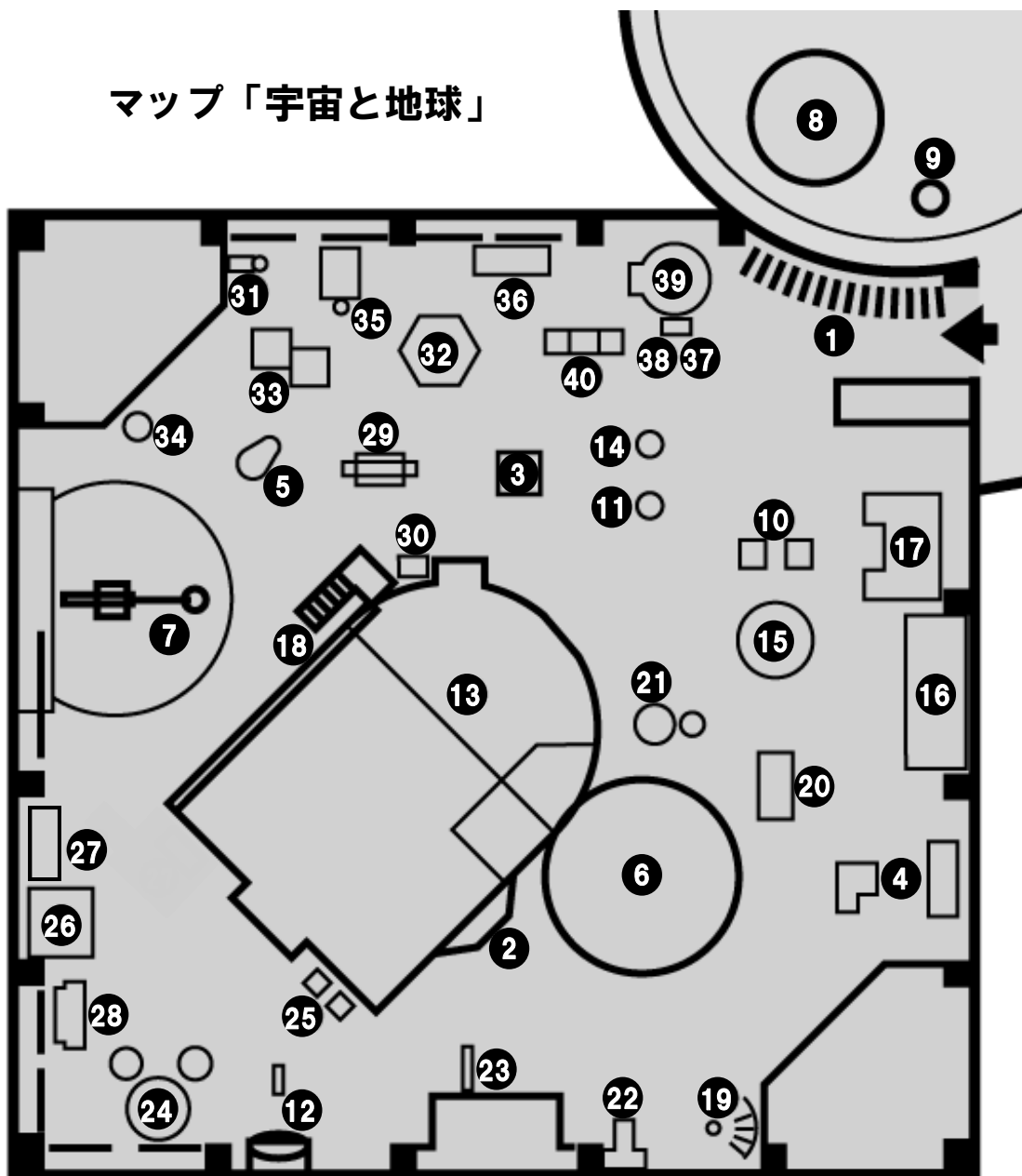


※むずかしいときは、おうちのひとといっしょにこたえをさがしてね！

<p>③ きりばこ 霧箱</p>	<p>⑥ つき み か 月の満ち欠け</p>
<p>きりばこ なに とお あと み そうち 霧箱は何が通った跡が見える装置？</p> <ol style="list-style-type: none"> 1. か しこうせん 可視光線 2. しがいせん 紫外線 3. せきがいせん 赤外線 4. ほうしゃせん 放射線 	<p>させき いっかいてん なに 座席の一回転は何をあらわしている？</p> <ol style="list-style-type: none"> 1. ちきゅう ぶん 地球の1分 2. ちきゅう じかん 地球の1時間 3. ちきゅう いち 地球の1日 4. ちきゅう ねん 地球の1年 
<p>⑧ ふ こ フーコーの振り子</p>	<p>⑳ じんりき 人力エレベーター</p>
<p>フーコーが 1851年に振り子を使って ちきゅう なに たし 地球が何をしているの確かめた？</p> <ol style="list-style-type: none"> 1. じてん 自転 2. こうてん 公転 3. しゅうてん 周転 	<p>じぶん も あ つか すじょう 自分を持ち上げるために使った、頭上 にある装置の名前は？</p> <ol style="list-style-type: none"> 1. てこ 2. かっしゃ 滑車 3. はぐるま 歯車 
<p>⑳ ジャンプリング</p>	<p>㉓ ひかり 光のパレット</p>
<p>はっしゃ なに 発射されるリングは何でできている？</p> <ol style="list-style-type: none"> 1. てつ 鉄 2. どう 銅 3. アルミニウム 4. ステンレス 	<p>あかみどりあお ひかり ま なにいろ 赤 緑 青の光を混ぜると何色になる？</p> <ol style="list-style-type: none"> 1. くろいろ 黒色 2. しろいろ 白色 3. みずいろ 水色 4. むらさきいろ 紫色 

てんじぶつ ばしょ うらめん
展示物の場所は裏面のマップを見て探そう！

マップ「宇宙と地球」



もんだい ばんごう おな ばんごう てんじぶつ
問題の番号と同じ番号のところにその展示物があるよ！

ほか ちょうせん ぜん しゅるい
他のワークシートにも挑戦しよう！（全8種類）