








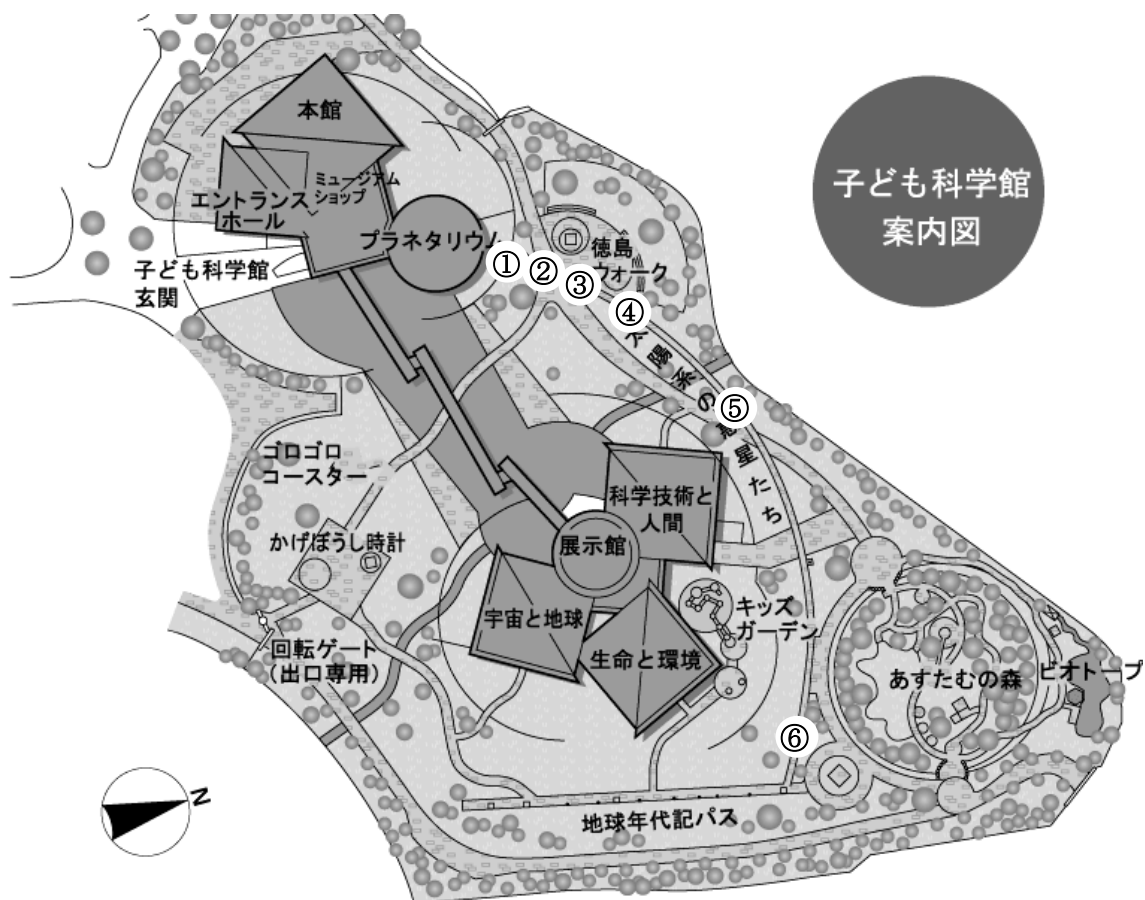
おくがいてんじ たいようけい わくせい へん
屋外展示① 太陽系の惑星たち編



※むずかしいときは、おうちのひとといっしょにこたえをさがしてね！

<p>すいせい ① 水星</p>	<p>かせい ② 火星</p>
<p>すいせい ひるま おんど なんと 水星の昼間の温度は何度でしょう？</p> <ol style="list-style-type: none"> 1. 4℃ 2. 40℃ 3. 400℃ 	<p>かせい へいきんおんど なんと 火星の平均温度は何度でしょう？</p> <ol style="list-style-type: none"> 1. マイナス40℃ 2. 4℃ 3. 40℃ 
<p>もくせい ③ 木星</p>	<p>どせい ④ 土星</p>
<p>もくせい にち なが 木星の1日の長さはどれくらいでしょう？</p> <ol style="list-style-type: none"> 1. 1時間 2. 10時間 3. 100時間 	<p>どせい おお なに 土星の大きなリングはほとんど何できているでしょう？</p> <ol style="list-style-type: none"> 1. 巨大な岩石 2. 水 3. 氷の粒 
<p>てんのうせい ⑤ 天王星</p>	<p>めいおうせい ⑥ 冥王星</p>
<p>こうてんめん たい かいてん 公転面に対してどのようになつて回転しながら太陽の周りをまわっている？</p> <ol style="list-style-type: none"> 1. 前倒し 2. 横倒し 3. 後ろ倒し 	<p>めいおうせい たいよう ひとまわ 冥王星が太陽のまわりを一回りするのに何年かかるでしょう？</p> <ol style="list-style-type: none"> 1. 2年 2. 24年 3. 248年 

てんじぶつ ばしょ うらめん み さが
 展示物の場所は裏面のマップを見て探そう！



もんだい ばんごう おな ばんごう てんじぶつ
問題の番号と同じ番号のところにその展示物があるよ！

ほか ちょうせん ぜん しゅるい
他のワークシートにも挑戦しよう！（全8種類）